

















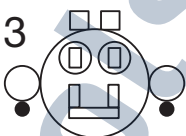


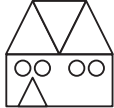





# Figuren vergelijken



# 1

Welke twee figuren zijn gemaakt van dezelfde vormen?

	1 	2 	3 	4 
	1 	2 	3 	4 
	1 	2 	3 	4 
	1 	2 	3 	4 
	1 	2 	3 	4 

2 en 3

1 en 4

3 en 4

1 en 2

2 en 4

3

7

9

1

6

5

8

10















2

12

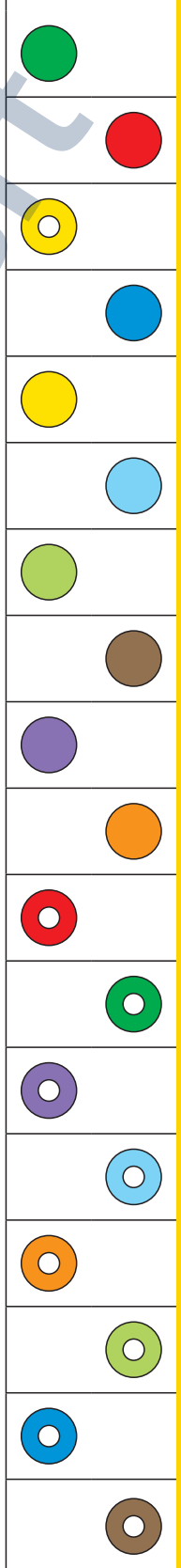
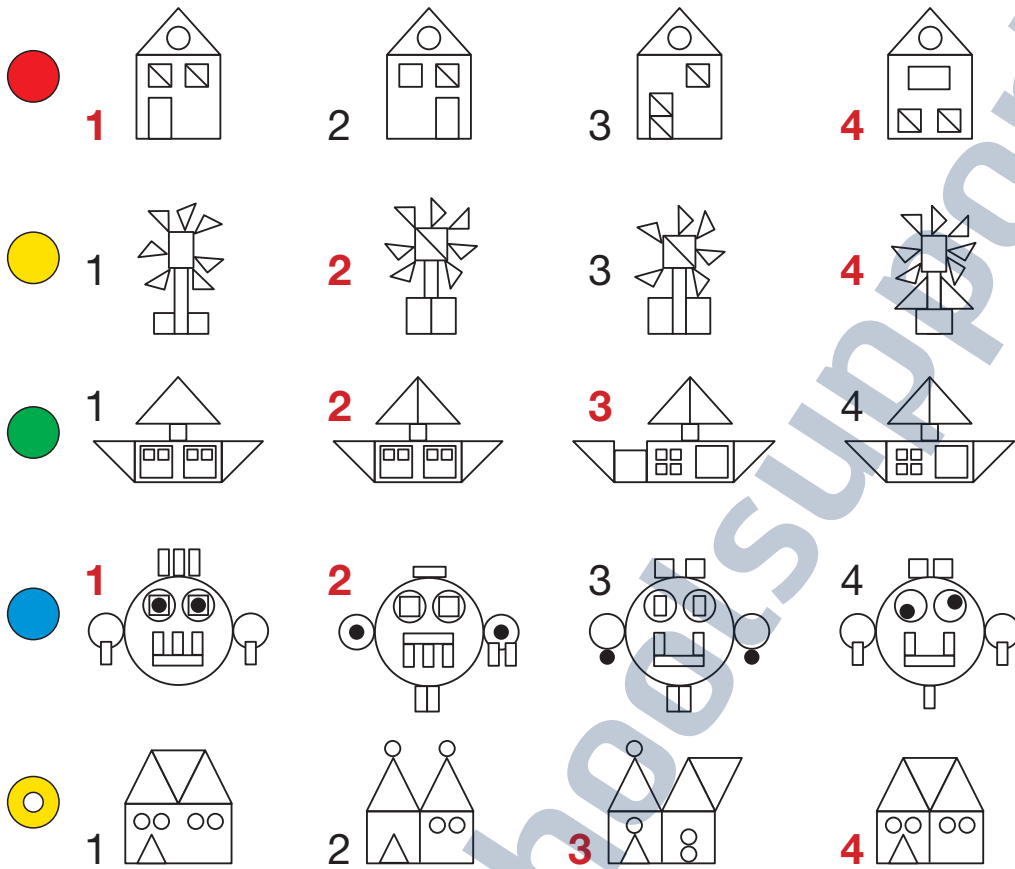
4





Hoeveel?	driehoeken 	vierkanten 	rechthoeken 	driehoeken & vierkanten	vierkanten & rechthoeken
huis 1 (boven)					
huis 4 (boven)					
molen 2					
schip 1					
gezicht 4					
huis 1 en 3 (onder)					
huis 4 (boven) en gezicht 4					

Welke twee figuren zijn gemaakt van dezelfde vormen?



Hoeveel?	driehoeken 	vierkanten 	rechthoeken 	driehoeken & vierkanten	vierkanten & rechthoeken
huis 1 (boven)			<u>1</u>		
huis 4 (boven)	<u>5</u>				
molen 2	<u>9</u>		<u>3</u>		<u>4</u>
schip 1		<u>7</u>		<u>10</u>	
gezicht 4		<u>2</u>	<u>6</u>		
huis 1 en 3 (onder)	<u>8</u>				
huis 4 (boven) en gezicht 4					<u>12</u>